

GEOGRAFIE

Caiet de lucru pentru clasa a VI-a

Recapitulare inițială.....	4	3.1.4. Diferențieri climatice și biogeografice.....	52
Test de evaluare inițială.....	9	3.2. Test de evaluare.....	54
1. Cunoașterea lumii în care trăim.....	11	3.3. Oameni și locuri 3.3.1. Harta politică – state și regiuni.....	56
1.1. Repere ale cunoașterii Terrei – de la marile descoperiri geografice la explorarea modernă.....	11	3.3.2. Răspândirea geografică a populației. Elemente de diversitate umană (diversitate etnică, lingvistică, confesională și culturală).....	58
1.2. Continente și țări – reprezentări cartografice. Harta politică a lumii.....	13	3.3.3. Mari orașe europene.....	60
1.3. Aplicații: exerciții de apreciere a distanțelor și suprafețelor pe suporturi cartografice clasice și/sau digitale.....	15	3.4. Economia. 3.4.1. Resursele naturale și valorificarea lor.....	63
1.4. Recapitulare. Test de evaluare.....	16	3.4.2. Activitățile economice: agricultura, industria, serviciile.....	66
2. Antroposfera – omul și activitățile umane.....	20	3.5. Uniunea Europeană.....	69
2.1. Populația Terrei: evoluția numerică, răspândirea geografică, diversitatea umană, mobilitatea teritorială.....	20	3.6. Caracterizarea geografică a unor state europene. 3.6.1. Norvegia..	71
2.2. Așezările omenești – forme de locuire și diferențieri teritoriale.....	24	3.6.2. Regatul Unit al Marii Britanii și Irlandei de Nord.....	74
2.3. Resursele naturale și valorificarea acestora.....	27	3.6.3. Franța.....	76
2.4. Domeniile activităților economice pe Terra: agricultura, industria, serviciile (caracteristici generale).....	30	3.6.4. Germania.....	79
2.5. Efectele activităților umane asupra mediului și calitatea vieții.....	37	3.6.5. Rusia.....	81
2.6. Aplicații: analiza și interpretarea caracteristicilor demografice și de locuire din orizontul local și apropiat; provocări locale în context mondial; trasee turistice aplicate pe domenii de interes; regiuni turistice	37	3.6.6. Spania.....	86
2.7. Recapitulare.....	41	3.6.7. Italia.....	89
2.8. Test de evaluare.....	44	3.6.8. Grecia.....	91
3. Europa – identitate geografică.....	46	3.7. Recapitulare.....	94
3.1. Mediul natural ca suport al locuirii umane. 3.1.1. Poziția geografică. Țărmurile: golfuri, insule, peninsule și strâmtori.....	46	3.8. Test de evaluare.....	96
3.1.2. Caracteristici generale ale reliefului. Unități majore.....	48	4. Europa în lumea contemporană.....	98
3.1.3. Hidrografia.....	50	4.1. Valori culturale și umane în Europa.....	98
		4.2. Calitatea vieții în Europa.....	99
		4.3. Recapitulare.....	100
		4.4. Test de evaluare.....	101
		Recapitulare finală.....	103
		Test de evaluare finală.....	106
		Teme de portofoliu	108

1. Precizează trei cauze ale marilor descoperiri geografice, în funcție de următoarele criterii:

a. politice:

b. economice:

c. religioase:

d. tehnice:

e. cunoștințe geografice:

2. Precizează două consecințe ale marilor descoperiri geografice pe următoarele planuri:

a. economice:

b. sociale:

c. politice:

d. ideologice:

3. Ce rol au Sistemele Informaționale Geografice (SIG) în explorarea spațiului terestru? Din ce elemente sunt alcătuite?

4. Enumeră patru instrumente utilizate pentru orientare de către exploratori în timpul călătoriilor:

5. Realizează împreună cu colegul de bancă (consultând ziare, reviste, enciclopedii, internetul) fișe de prezentare pentru următorii exploratori: Strabon, Eric cel Roșu, Henric Navigatorul, Bartolomeu Dias, Vasco da Gama, Cristofor Columb, Amerigo Vespucci, Fernando Magellan, James Cook, Nicolae Milescu-Spătaru, Emil Racoviță, Iuri Gagarin, Neil Armstrong, Jacques Yves-Cousteau, Dumitru Prunariu, după modelul de mai jos. Fișele vor completa portofoliul elevului.

Fișa nr. 1

Strabon (n. 64-63 î.Hr - d. 24 d.Hr)

ACTIVITATE:

A studiat în Asia Minor, Armenia, Grecia, Roma și Alexandria și a călătorit în Europa, Africa și Asia Mică, până la Marea Roșie.

Primele schițe istorice, cuprinse în 47 cărți, au fost scrise, cel mai probabil, între 27 î. Hr. și 7 d. Hr.

Ulterior a scris *Geografia*, pe baza propriilor observații și a operelor predecesorilor săi: Homer, Eratosthenes, Polybius și Poseidonius.

Lucrarea conține, pe lângă material istoric, o serie de descrieri de locuri (clima, relieful, hidrografia) și popoare, cu aspecte etnografice și mitologice constituind un bogat izvor de cunoștințe despre lumea antică.

CONTRIBUȚIE:

Geografia s-a păstrat aproape în întregime, cu excepția unei părți din cartea a 7-a, din care însă au rămas numeroase fragmente. Lucrarea este împărțită în 17 cărți:

- 2 cărți introductive (discuție despre definiția și cadrul geografic);
- 8 cărți despre Europa;
- 6 cărți despre Asia;
- 1 carte despre Africa, cu precădere despre Egipt.

(sursa: www.wikipedia.org)

1. Definește următorii termeni geografici:

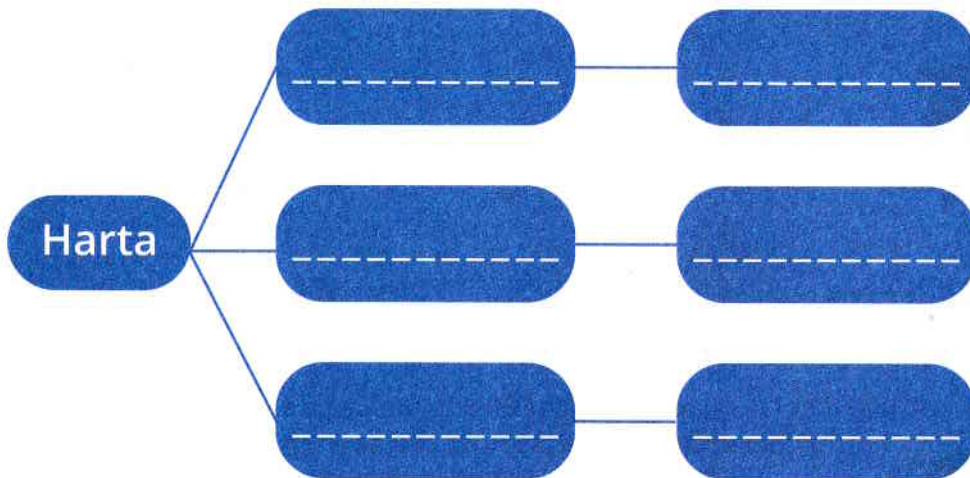
continent: _____

ocean: _____

hartă: _____

scara hărții: _____

2. Completează schema de mai jos, precizând elementele componente ale unei hărți:



3. Reprezentările cartografice pot fi:

a. _____

b. _____

c. _____

4. Analizează, la alegere, harta politică a unui continent și identifică:

a. elementele care definesc un stat:

b. criteriile de clasificare sau după care se deosebesc statele; precizează cel puțin un exemplu de stat pentru fiecare criteriu menționat:

5. Analizează harta politică a lumii și completează spațiile libere de mai jos:

- cel mai întins stat ca suprafață

- cel mai populat stat

- 5 state traversate de Ecuator

- 5 state traversate de meridianul de 0°

- 5 state cu ieșire la mare sau la ocean

- 5 state fără ieșire la mare sau la ocean

- 5 state insulare

- 5 state sub formă de arhipelag

- 5 state peninsulare

- 3 state enclave

- 5 state dispuse de-a lungul meridianelor

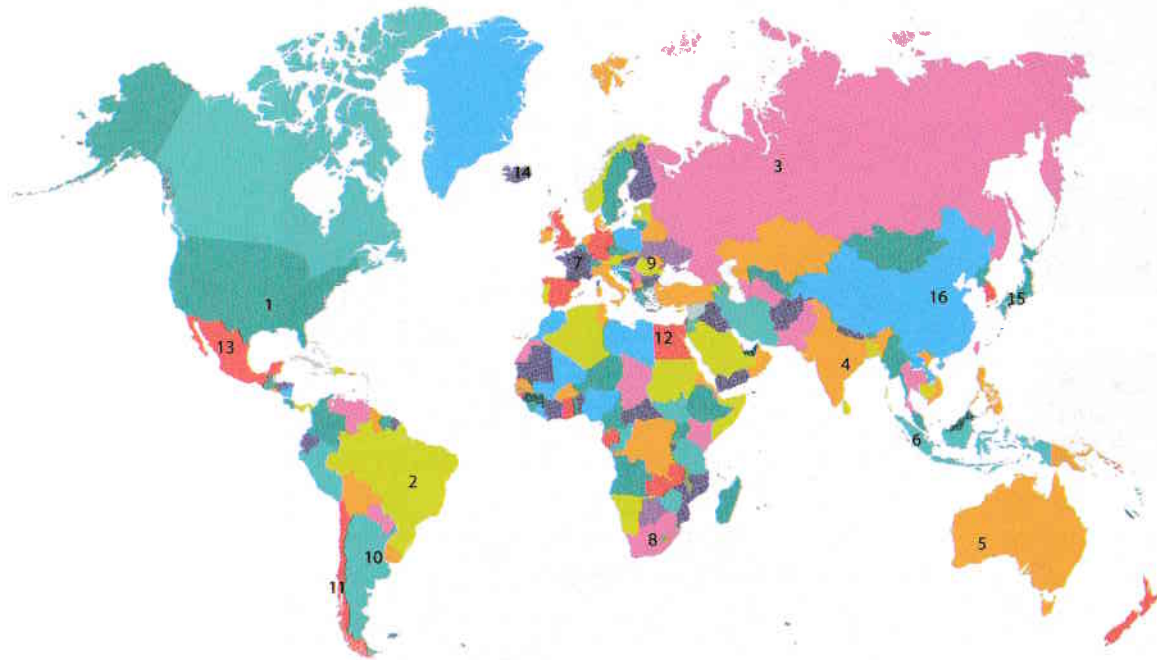
- 4 state fragmentate

- 4 state compacte

- 4 state dezvoltate din punct de vedere economic

- 4 state slab dezvoltate din punct de vedere economic

6. Cu ajutorul hărții politice de mai jos, identifică statele și capitalele marcate cu cifre de la 1 la 16; pentru fiecare stat identificat precizează continentul pe care este situat.



- 1 _____
- 2 _____
- 3 _____
- 4 _____
- 5 _____
- 6 _____
- 7 _____
- 8 _____
- 9 _____
- 10 _____
- 11 _____
- 12 _____
- 13 _____
- 14 _____
- 15 _____
- 16 _____

1. Ce este scara hărții?

2. De câte tipuri este scara hărții?

3. Explică cum se calculează scara hărții:

4. Se dau 2 hărți: una cu scara 1:25 000 și una cu scara 1:1 000 000. Pe care dintre cele 2 hărți se pot reprezenta mai multe elemente geografice? Argumentează răspunsul dat.

5. Asociază corect scările numerice din coloana A cu scările grafice din coloana B:


A

1 – 1:40 000 000

2 – 1:500 000

3 – 1:1 000 000

B



6. Cunoscând scările numerice, realizează scara grafică după cum urmează:

1:50 000

1:500 000

1:1 000 000

1:40 000 000

7. Calculează distanța din teren dintre două orașe, știind că pe hartă sunt 4 cm, iar scara hărții este 1:200 000.

1. Completează schema de mai jos, precizând contribuția exploratorului menționat la cunoașterea Terrei.

7x3 = 21 puncte



Cristofor Columb

Blank writing area with horizontal dashed lines for notes.



Vasco Da Gama

Blank writing area with horizontal dashed lines for notes.



Fernando Magellan

Blank writing area with horizontal dashed lines for notes.